



إدارة المناهج والكتب المدرسية

الجغرافيا

بنك أسئلة التوجيهي



للفرعين: الأدبي والفندقي والسياحي

الصف
لثاني عشر

المبحث: الجغرافيا / ف ١ الفرع: الأدبي والفندقي والسياحي

أ) أكمل الجدول الآتي للمقارنة بين المناخ والطقس:

الطقس	المناخ
١- يمتد لفترة قصيرة
٢-	حالة عناصر المناخ أكثر ثباتاً، وتحدث في فصول محددة من السنة

ب) حوّل درجة الحرارة (٣٥م) إلى فهرنهايت.

المبحث: الجغرافيا / ف ١ الفروع: الأدبي والفندقي والسياحي

أ) علّل ما يأتي:

- ١- للضغط الجوي أهمية كبيرة في الأرصاد الجوية.
- ٢- انخفاض الضغط الجوي في النطاق الممتد بين دائرتي عرض (٥) شمال وجنوب خط الاستواء.

ب) كوّن تعميماً يوضّح العلاقة بين درجة الحرارة والضغط الجوي.

ج) وضّح المقصود بـ: الرهو الاستوائي.

أذكر:

١. العوامل المؤثرة في الرياح.
٢. نطاقات الضغط الجوي الرئيسة في العالم.
٣. أنظمة لقياس درجات الحرارة.
٤. الآثار السلبية لرياح الخماسين.



أ) مُستخدمًا المؤشر المجاور، حدّد اتجاه الرياح
عن درجتى:

- (١٣٠ درجة). - (٢٨٠ درجة).

ب) أذكر:

- ١- العوامل المؤثرة في الرياح.
- ٢- أنواع الرياح الدائمة.
- ٣- العوامل التي تعتمد عليها كمية وغزارة الأمطار التضاريسية.

أعط أسباب ما يأتي:

- ١- نشوء الرياح الموسميّة.
- ٢- زيادة شدّة الرياح على السطوح المستوية والملاء.
- ٣- تكوّن غيوم المزن الركامية في فصل الشتاء.

أ) وضّح الآلية التي تتكوّن بها غيوم المزن الركاميّة.

ب) قارن بين المناطق الساحلية والمناطق البعيدة عن البحر
من حيث:

- ١- طبيعة المناخ.
- ٢- المدى الحراري اليومي والفصلي.

صنّف كلاً ممّا يلي إلى تيارات بحريّة دافئة أو تيارات بحريّة باردة،
مستخدماً الجدول الآتي:

تيار غرب استراليا، تيار البيرو، تيار البرازيل، تيار كناري، تيار اليابان

التيارات البحرية الدافئة	التيارات البحرية الباردة

أعطِ أسباب ما يأتي:

١. تعدّ التيارات البحرية مناطق صيد رئيسة للأسماك.

٢. تكثر السحب في الأقاليم الاستوائية.

٣. تمتاز مدن لندن بتكوّن الضباب الدخاني.

أذكر:

١. ثلاثة من عوامل تكوُّن الضباب.
٢. ثلاثة من الإجراءات الزراعية الناتجة من خطر الصقيع.
٣. ثلاثة من الأضرار الناتجة عن العواصف الثلجية.
٤. أنواع الجبهات الهوائية.

أ) كوّن تعميماً توضّح فيه العلاقة بين السُّحب وتكوّن الصقيع.

ب) وضّح المقصود بكل من:

- ١- الرياح التجارية.
- ٢- الإخلال في التوازن البيئي.

ج) أذكر أنواع البيئة كما تراها النظرية الاحتمالية.

المبحث: الجغرافيا / ف ١ الفروع: الأدبي

فيما يلي فقرتان، اختر رمز الإجابة الصحيحة لكل منهما:

(١) النظرية البيئية التي تُظهر سلطة البيئة على الإنسان هي النظرية:

أ. الحتمية ب. الاحتمالية ج. الإمكانية د. التوافقية

(٢) أحد الآتية ليست من العوامل البشرية المسببة
للتغير المناخي:

أ. قطع الغابات ب. التجارب النووية
ج. الانفجارات البركانية د. التلوث الجوي

المبحث: الجغرافيا / ف ١ الفروع: الأدبي

(أ) أذكر أبرز المنظمات غير الحكومية لحماية البيئة.

(ب) عرف: النزوح البيئي.

(ج) أذكر الآثار الصحية الناتجة من تغير المناخ.

أذكر:

١. الجوانب التي عالجتها الاستراتيجية الوطنية لحماية البيئة.
٢. أهداف برامج التوعية البيئية.
٣. التأثيرات الاقتصادية للتغير المناخي على حياة الإنسان.
٤. عناصر الطاقة البيئية.

- أ) " نتيجة للتزايد السكاني المستمر في العالم، تفاقمت المشكلات البيئية الناجمة عن ممارسات الإنسان الخاطئة في البيئة"
- أذكر هذه الممارسات.
- ب) أذكر الفوائد الاقتصادية للتخطيط البيئي.

المبحث: الجغرافيا / ف ١ الفروع: الأدبي

اختر رمز الإجابة الصحيحة لكل فقرة مما يلي:

١. الرياح التي تحدث أكثر في مناطق جنوب شرق آسيا هي الرياح:
أ. اليومية ب. الدائمة ج. المحلية د. الموسمية
٢. من أشكال السحب، والتي تكون قطرات مائية تتكون في الليل:
أ. الندى ب. الصقيع ج. الضباب د. السحب
٣. يسود في العروض العليا من نصف الكرة الشمالي بعد دائرة عرض (٦٦,٥) شمال وجنوب خط الاستواء هو الإقليم:
أ. الاستوائي ب. القطبي ج. المعتدل د. المداري

المبحث: الجغرافيا / ف ١ الفروع: الأدبي

س ١: علّل ما يأتي:

- ١- ترتبط البيئة بالاقتصاد.
 - ٢- تعتبر المحميات الطبيعية الوجهة الرئيسية للسياحة البيئية.
- س ٢: أذكر عناصر التنمية المستدامة.
- س ٣: أذكر أربعة من أهم مواقع السياحة البيئية في الأردن.

أ - سمّ ثلاثة من المؤتمرات والاتفاقيات الدوليّة حول البيئة والتغيّر المناخي.

ب - أذكر عناصر الثقافة البيئية.

ج - عدّد خصائص الاقتصاد البيئي.

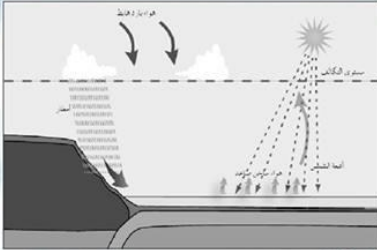
اختر رمز الإجابة الصحيحة لكل فقرة ممّا يلي:

١- أحد الآتية ليست من التأثيرات المادية لظاهرتي النينووالنينا:

- أ. انخفاض المخصبات الحيوية
ب. حدوث كوارث بشريّة
ج. انتشار الميكروبات الضارة
د. هلاك أعداد من الأسماك

٢- يتفاوت المدى الحراري اليومي في المرتفعات الجبلية بين:

- أ. (١٠ - ١٢) م
ب. (١٢ - ١٥) م
ج. (١٥ - ١٦) م
د. (١٠ - ١٥) م



أ) أنظر الشكل المجاور، ثم أجب عما يلي:

١. ما نوع الأمطار الظاهرة في الشكل؟

٢. سمّ أنواع السحب التي ترافق هذه الأمطار.

٣. علام تعتمد كمية الامطار في هذه الحالة؟

٤. بين الآثار السلبية لهذه الأمطار.

ب) أذكر خصائص الأعاصير المدارية.

التغطية الحصرية لمبحث الجغرافيا (ف ١) الفروع: الأدبي والفندقي والسياحي (النظام الجديد) - ٢٠١٨ م

أ) وضّح آلية تكوّن الأعاصير المدارية. (٤ علامات)

ب) يتكوّن هذا الفرع من فقرتين، لكل فقرة أربعة بدائل، واحد منها فقط صحيح. أنقل إلى دفتر إجابتك رقم الفقرة ورمز البديل الصحيح: (٤ علامات)

١- عند تحويل درجة الحرارة (١٥ م) من النظام المئوي إلى النظام الفهرنهايتي فإنّها تساوي:

أ) (١٠) ف (ب) (٥) ف (ج) (٥٩) ف (د) (٣٤) ف

٢- نطاق الضغط الجوي الذي يقع بين دائرتي عرض (٢٥ - ٣٥) شمال وجنوب خط الاستواء هو:

أ) الضغط المنخفض الاستوائي (ب) الضغط المرتفع المداري

ج) الضغط المنخفض شبه القطبي (د) الضغط المرتفع القطبي

ج) علّل: تقل نسبة العناصر (الأكسجين، النتروجين وثاني أكسيد الكربون) في منطقة رأس منيف في عجلون. (علّمان)

التغطية الحصرية لمبحث (الجغرافيا ف١) الفروع:
الأدبي والفندقي والسياحي (النظام الجديد) - ٢٠١٨ م

أ) عرّف المفاهيم والمصطلحات الآتية: (١٨ علامة)

- ١ - القوة الكارولية (كوروليس).
- ٢ - التيارات البحرية.
- ٣ - خط الثلج الدائم.
- ٤ - الجبهة الهوائية الحارة.
- ٥ - التلفون.
- ٦ - الإخلال في التوازن البيئي.
- ٧ - الوعي البيئي.
- ٨ - الاقتصاد البيئي.
- ٩ - التنمية النظيفة.

ب) ساهم التنوع المناخي في تطوير الأنشطة السياحية في الأردن، وضّح ذلك. (٤ علامات)

التغطية الحصرية لمبحث (الجغرافيا ف١) الفروع:
الأدبي والفندقي والسياحي (النظام الجديد) - ٢٠١٨ م

** يتكوّن هذا السؤال من فترتين، لكل فقرة أربعة بدائل، واحد منها فقط صحيح. أنقل إلى دفتر إجابتك رقم الفقرة ورمز البديل الصحيح: (٤ علامات)

١ - الترتيب الصحيح لمناطق الأردن وفق المتوسط السنوي لدرجات الحرارة من الأعلى إلى الأقل:

- أ) وادي الأردن، المرتفعات الجبلية، الإقليم الصحراوي
- ب) وادي الأردن، الإقليم الصحراوي، المرتفعات الجبلية
- ج) المرتفعات الجبلية، الإقليم الصحراوي، وادي الأردن
- د) المرتفعات الجبلية، وادي الأردن، الإقليم الصحراوي

٢ - موطن المها العربي في الأردن:

- أ) محمية الأزرق المائية
- ب) محمية دبّين
- ج) محمية الشومري الطبيعية
- د) محمية ضانا

التغطية الحصرية لمبحث (الجغرافيا ف١) الفروع:
الأدبي والفندقي والسياحي (النظام الجديد) - ٢٠١٨ م

أ) علّل كُلاماً مما يأتي: (٨ علامات)

- ١- تعد الرياح من أهم العناصر المناخية.
- ٢- تشكّل التيارات البحرية مناطق صيد رئيسة للأسماك.
- ٣- يصبح البحر الأبيض المتوسط مركزاً رئيسياً من مراكز الضغط الجوي المنخفض في فصل الشتاء.
- ٤- عدم توغّل الأمطار في الأجزاء الشرقية من الأردن.

ب) أذكر التأثيرات المناخية لظاهرتي النينا والنينو. (٣ علامات)

التغطية الحصرية لمبحث (الجغرافيا ف١) الفروع:
الأدبي والفندقي والسياحي (النظام الجديد) - ٢٠١٨ م

أ) أذكر ما يأتي:

- ١- عوامل تساعد في تكوين الضباب. (٣ علامات)
- ٢- أربعة من الإجراءات الناتجة من خطر الصقيع. (٤ علامات)
- ٣- مراحل تطور علاقة الإنسان بالبيئة. (٤ علامات)
- ٤- مظاهر بيئية من فعل الإنسان تؤكد فكرة النظرية الإمكانية. (٣ علامات)

ب) العلاقة بين الاقتصاد والبيئة علاقة تبادلية، وضح ذلك. (٣ علامات)

التغطية الحصرية لمبحث (الجغرافيا ف١) الفروع:
الأدبي والفندقي والسياحي (النظام الجديد) - ٢٠١٨ م

أ) كُون تعميماً يوضّح العلاقة بين: (٤ علامات)

١- قوّة احتكاك الرياح وخشونة الأرض.

٢- سرعة الرياح واختلاف قيم الضغط الجوي لمنطقتين متجاورتين.

ب) في الفقرة الآتية، اختر رمز البديل الصحيح: (علامتان)

** العامل الذي يسمح بفقدان الإشعاع الأرضي، وانخفاض درجة الحرارة وتكوّن الصقيع هو:

أ) طبوغرافية الأرض ب) هدوء الرياح ج) طول ساعات الليل د) صفاء السماء

ج) علّل: يُطلق على الأعاصير التي تنشأ فوق البحار الإستوائية في الصيف والخريف اسم العواصف الدوارة.

(علامتان)

التغطية الحصرية لمبحث (الجغرافيا ف١) الفروع:
الأدبي والفندقي والسياحي (النظام الجديد) - ٢٠١٨ م

علّل كلاً ممّا يأتي:

١- يؤدي قطع الغابات المستمر إلى التأثير في مناخ الأرض وزيادة الاحتباس الحراري.

٢- تعتبر المحميات الطبيعية الوجهة الرئيسية للسياحة البيئية.

٣- تعد الطاقة الشمسية مصدراً للطاقة المتجددة.

٥- حدوث موجات الحر.

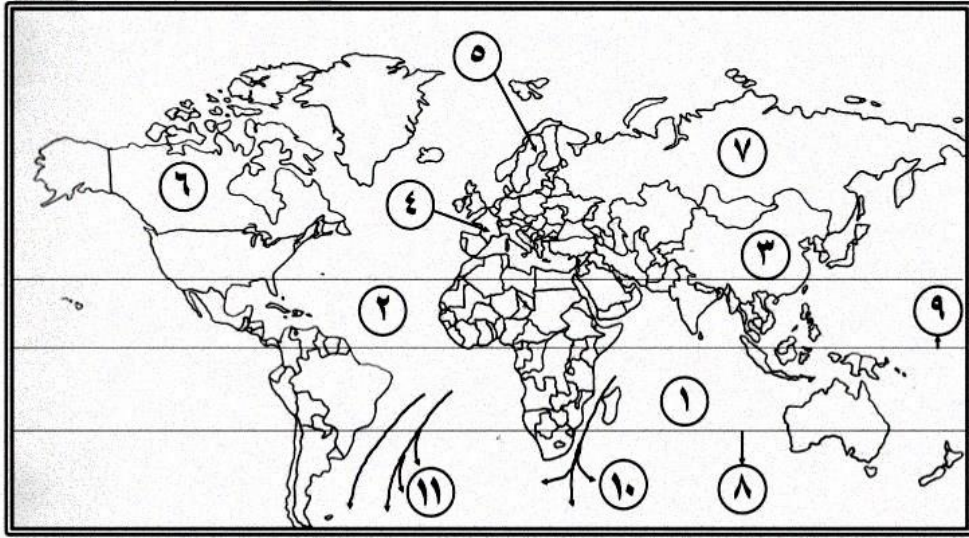
التغطية الحصرية لمبحث (الجغرافيا ف١) الفروع:
الأدبي والفندي والسياحي (النظام الجديد) - ٢٠١٨ م

أذكر:

- ١- أربعة من الآثار البيئية الناتجة عن التغير المناخي. (٤ علامات)
- ٢- منظمات غير حكومية لحماية البيئة. (٣ علامات)
- ٣- أهداف الاستراتيجية الوطنية لحماية البيئة. (٣ علامات)
- ٤- ثلاثة من الفوائد الصحية للتخطيط البيئي. (٣ علامات)

التغطية الحصرية لمبحث (الجغرافيا ف1) الفروع:
الأدبي والفنقي والسياحي (النظام الجديد) - 2018م

- أ) أذكر عناصر الطاقة البيئية. (٣ علامات)
- ب) أدرس خريطة العالم أدناه ثم أكتب في دفتر إجابتك ما تشير إليه الأرقام التالية: (١١ علامة)
- مسطحات مائية (١ ، ٢).
 - مدينة صناعية يظهر فيها ضباب دخاني (٣).
 - مدينة عُقدت فيها مؤتمر للبيئة والتغير المناخي (٤ ، ٥).
 - دول تنتج قمح ربيعي (٦ ، ٧).
 - دوائر عرض رئيسية (٨ ، ٩).
 - تيارات بحرية دافئة (١٠ ، ١١).



التغطية الحصرية لمبحث (الجغرافيا ف١) الفروع:
الأدبي والفندقي والسياحي (النظام الجديد) - ٢٠١٨م

أ) يتكوّن هذا الفرع من فترتين، لكل فترة أربعة بدائل، واحد منها فقط صحيح. أنقل إلى دفتر إجابتك رقم الفقرة ورمز البديل الصحيح:

- ١- المنخفض الذي يشكل ما نسبته (٣٣٪) من موجات الحر التي تؤثر على الأردن:
- أ) المنخفض الموسمي ب) المنخفض الخماسيني
- ج) منخفض البحر الأحمر د) المنخفض الحراري السعودي
- ٢- الإقليم المناخي الذي يسود في العروض العليا من نصف الكرة الشمالي بعد دائرة عرض (٦٦,٥) شمال وجنوب خط الاستواء:
- أ) إقليم المناخ القطبي ب) إقليم المناخ المعتدل
- ج) الإقليم الاستوائي د) الإقليم المداري

ب) أذكر ثلاثة من الفوائد التي تقدمها السياحة البيئية. (٣ علامات)

بنك أسئلة التوجيهي
 @TawjihiBankOfficial
 النظام الجديد
 شهادة الدراسة الثانوية العامة لعام ٢٠١٨ / الدورة الصيفية

المبحث: الجغرافيا / ف٢
الفروع: الأدبي

أ) كَوّن تعميمياً يوضّح العلاقة بين:

١- صلابة الصخر ومقاومة العوامل الجوية.

٢- شدة حرارة المواد المنصهرة وتكوّن القوى الداخلية.

ب) اختر البديل الصحيح من البدائل الأربعة المعطاة للفقرة الآتية:

- نشأت قمة ايفرست والتي يبلغ ارتفاعها (٨٨٤٨م) نتيجة حركات:

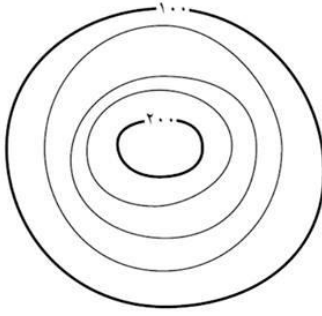
أ. تكتونية ب. انكسارية

ج. صدعية باطنية د. انكسارية باطنية

ج) أذكر المجالات التي يهتم بها علم الجيومورفولوجيا.

المبحث: الجغرافيا / ف٢ الفروع: الأدبي

أ) أدرس الشكل الآتي، ثم أجب عن الأسئلة التي تليه:



١. احسب قيمة الفاصل الرأسي.
٢. ما الظاهرة الطبيعية التي يمثلها الشكل؟
٣. ما أكثر الجهات انحداراً في الشكل.

ب) أذكر أهم الجوانب التطبيقية لعلم الجيومورفولوجيا.

المبحث: الجغرافيا / ف٢ الفروع: الأدبي

أ) كَوْنْ تعميماً يبيّن العلاقة بين صلابة الصخر ومقاومته للتجوية.

ب) أذكر العوامل التي تساعد على حدوث التجوية الميكانيكية.

ج) عرّف: ١. قباب التقشّر.

٢. الحطام الصخري.

المبحث: الجغرافيا / ف ٢ الفروع: الأدبي

لقد صاغ العالم وليام ديفز الدورة الجيومورفولوجية (دورة التعرية) الى عدة مراحل: مرحلة الشباب ومرحلة النضج ومرحلة الشيخوخة. قارن بين هذه المراحل من حيث :

١. نوع الحت السائد فيها.
٢. شكل مقطع عرض قناة النهر.
٣. الاشكال الارضية الناتجة عنها.
٤. عمليات التعرية النهرية التي يمر بها النهر.

المبحث: الجغرافيا / ف ٢ الفروع: الأدبي

(أ) أعط أسباب ما يأتي:

١. تؤثر درجة الانحدار في تشكيل معالم سطح الأرض.
٢. ترتبط سرعة المياه الجارية بطبيعة المنطقة التي تجري فيها المياه.
٣. نشأة الحمولة العالقة.

(ب) أعط مثالا واحداً على كل من:

١. أنهار تنتشر فيها السهول الفيضية.
٢. أشكال أرضية ناتجة عن عمليات الترسيب النهرية.

(أ) :وضّح المقصود بكل ممّا يأتي:

١. الخوانق. ٢. البحيرات الكوعيّة.

٣. مسامية الصخر. ٤. الحفر الوعائيّة.

(ب) أذكر أربعة من مميّزات النهر في مرحلة الشيخوخة.

(أ) أعطِ مثالا على كل ممّا يأتي:

١. عوامل يتوقف عليها تسرّب المياه الجوفية.

٢. مناطق سياحية أردنية ناتجة عن عمليات التعرية.

٣. ميّزات النهر في مرحلة النضج.

(ب) كوّن تعميماً يوضّح العلاقة بين الغطاء النباتي والجريان السطحي.

(ج) أذكر أهداف الجغرافية السياسيّة.

المبحث: الجغرافيا / ف ٢ الفروع: الأدبي

- أ) اختر رمز البديل الصحيح من البدائل الأربعة المعطاة للفقرة الآتية:
- نظام الحكم الذي يقوم على انتخاب رئيس الدولة من قبل الشعب
ولمدة زمنية محدودة:
أ. البرلماني ب. الجمهوري ج. الوراثي د. الرئاسي
- ب) أذكر أربعة من مجالات دراسة جغرافية الانتخابات.
- ج) بموجب الاختلاف في بنية الدولة الاجتماعية والاقتصادية والثقافية
تتنوع النظم الانتخابية إلى أنواع عدة، أذكر هذه الأنواع.

المبحث: الجغرافيا / ف ٢ الفروع: الأدبي

- أ) أعط أسباب ما يأتي:
١. تعدد السياسة الخارجية من مرتكزات الأمن الوطني الأردني.
٢. الصراع حول المياه.
- ب) أعط مثلاً واحداً على كل من:
١. دول تتعدد فيها الأقليات.
٢. دول لم تسمح للأقليات باستخدام لغاتها.
٣. مشكلات سياسية تهدد أمن الدول.

اختر رمز البديل الصحيح من البدائل الأربعة المعطاة لكل فقرة مما يأتي:
١. الأقليات التي تمثلها مجموعة من الأفراد تنتهي إلى هوية واحدة من حيث العرق واللغة والعادات والتقاليد هي:

- أ- الدينية ب- القومية ج- العرقية د- اللغوية

٢. العام الذي تأسست فيه منظمة الأمم المتحدة هو:

- أ- ١٩٤٤ م ب- ١٩٤٢ م ج- ١٩٤٥ م د- ١٩٤٠ م

٣. المنطقة الحدودية المتنازع عليها بين الصين والهند هي:

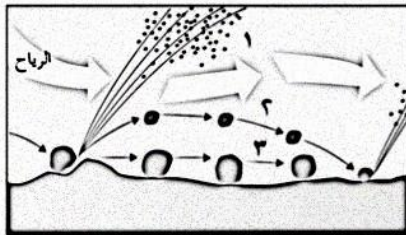
- أ- بكين ب- بنغلادش ج- أرمينيا د- النبت

٤. مستوى الأمن الوطني المرتبط بإيجاد علاقات مع دول الجوار هو:

- أ- داخلي ب- دولي ج- عالي د- إقليمي

امتحان شهادة الدراسة الثانوية العامة للدورة الصيفية ٢٠١٨
التغطية الحصرية من # بنك أسئلة التوجيهي لمبحث
الجغرافيا (الفروع: الأدبي والفندقي والسياحي)

أ (يبين الشكل المجاور طرق نقل الرياح لحموتها، أجب عما يأتي: (٨ علامات)



- ١- ما اسم الطريقة المشار إليها بالرقم (٢) ؟
- ٢- علام يعتمد بقاء حمولة الرياح أثناء نقلها بالطريقة رقم (١) ؟
- ٣- ما نسبة المواد المنقولة بالطريقة رقم (٢) ؟
- ٤- سمّ الوسيلة الأنسب لنقل الرمال الأكثر خشونة.
- ٥- أي الصخرين (الصخر الجيري أم الصخر البازلتي) تكون فيه عملية الحت نشطة أكثر؟ فسر إجابتك.

ب) اختر رمز البديل الصحيح من البدائل الأربعة المعطاة لكل فقرة مما يأتي: (٤ علامات)

- ١- ينتج من نحت الرياح المحملة بالرمال للطبقات الصخرية اللينة الموجودة عند قواعد هذه الصخور:

أ (حفر التذرية ب) الشواهد الصخرية ج) الحماد د (الموائد الصخرية
- ٢- العامل الذي يقلل كمية المياه الجارية في النهر وتناقص طاقتها الحثية هو:

أ (عرض قناة النهر ب) الغطاء النباتي ج) نوع الصخر د (درجة الانحدار

امتحان شهادة الدراسة الثانوية العامة للـدورة الصيفية ٢٠١٨م
التغطية الحصرية من #بنك أسئلة التوجيهي لمبحث
#الجغرافيا (الفروع: الأدبي والفندقي والسياحي)

أ) فسر:

- ١- نشوء الكثبان الطولية (كثبان السيف). (٣ علامات)
- ٢- للأشكال الأرضية الناتجة من عملية الترسيب النهري أهمية اقتصادية. (٣ علامات)
- ٣- تؤثر درجة الانحدار على سرعة ونوعية عملية التجوية. (٣ علامات)

ب) اختر رمز البديل الصحيح من البدائل الأربعة المعطاة لكل فقرة مما يأتي: (٤ علامات)

- ١- الحدود الدائمة والثابتة، والتي تعد من أفضل أنواع الحدود التي تفصل بين الدول تُسمّى:
أ) حدود جبلية ب) حدود نهريّة ج) حدود سهليّة د) حدود هندسية
- ٢- الخط الذي أقامته فرنسا على حدودها الشرقية مع ألمانيا لفصل الحدود السياسية بين الدولتين هو:
أ) خط بارليف ب) خط ميغان ج) خط ماجينو د) خط اللورين
- ٣- النزاع الذي نشب بين مصر وإسرائيل في أعقاب انسحاب إسرائيل من صحراء سيناء عام ١٩٨٢م هو نزاع على:
أ) مناطق حدودية ب) وضع الحدود ج) مصادر طبيعية د) وظيفة الحدود

امتحان شهادة الدراسة الثانوية العامة للـدورة الصيفية ٢٠١٨م
التغطية الحصرية من #بنك أسئلة التوجيهي لمبحث
#الجغرافيا (الفروع: الأدبي والفندقي والسياحي)

(٤ علامات)

أ) أعط مثلاً واحداً على كل من:

- ١- دول لجأت للتحكيم الدولي لحل المشكلات الحدودية بينها.
- ٢- أشكال أرضية ناتجة عن الحت النهري.
- ٣- أشكال الدلتا.
- ٤- مناطق تشكل السهول الفيضية.

ب) أذكر:

(٣ علامات)

١- مميزات الأنهار كحدود دولية.

(٣ علامات)

٢- أهداف منظمة الأمم المتحدة.

(٤ علامات)

٣- أشكال الحدود الهندسية بين الدول.

(٤ علامات)

٤- العوامل المؤثرة في العمليات النهرية.

(علامتان)

٥- العوامل التي تساعد على حدود التجوية الميكانيكية.

امتحان شهادة الدراسة الثانوية العامة للـدورة الصيفية ٢٠١٨م
التغطية الحصرية من #بنك أسئلة التوجيهي لمبحث
#الجغرافيا (الفروع: الأدبي والفندقي والسياحي)

أ (وضح المقصود بكل من المفاهيم الآتية: (٢٠ علامة)
التجوية، قباب النقش، تربة اللويس، التذرية الريحية، كمية التصريف النهري، الجغرافيا السياسية، العولمة، الحدود النهرية، الاستقرار السياسي، الأمن المائي.

ب) اختر رمز البديل الصحيح من البدائل الأربعة المعطاة لكل فقرة مما يأتي: (٨ علامات)

- ١- الكثبان الرملية التي تنشأ في المناطق التي تهب فيها الرياح باتجاه واحد هي:
أ (الطولية ب) السهلية ج) النجمية د (الهلالية
- ٢- اختلاف طبيعة الصخور التي يتركب منها قاع المجرى النهري يُعد سبباً في تكوين:
أ (الجنادل ب) الخوانق ج) الشلالات د (البحيرات الكوعية
- ٣- يبلغ الوادي النهري أقصى اتساع له عند وصول النهر لمرحلة:
أ (الشباب ب) النضج ج) الشيخوخة د (الجفاف
- ٤- أحد الدول الآتية لم تسمح للأقليات باستخدام لغاتها:
أ (فرنسا ب) العراق ج) إيطاليا د (أمريكا

امتحان شهادة الدراسة الثانوية العامة للـدورة الصيفية ٢٠١٨م
التغطية الحصرية من #بنك أسئلة التوجيهي لمبحث
#الجغرافيا (الفروع: الأدبي والفندقي والسياحي)

اختر رمز البديل الصحيح من البدائل الأربعة المعطاة لكل فقرة مما يأتي: (١٢ علامة)

١- الوسيلة التي تقوم فيها الرياح بنقل الرمال الخشنة والتي يفوق قطرها (٠,٥٠) ملم بشكل بطيء، هي:

أ (التعلق ب) القفز ج) الزحف د (القذف

٢- نوع الحت الذي يعمل على توسيع عرض القناة النهرية هو الحت:

أ (الرأسي ب) الجانبي ج) الطولي د (التراجعي

٣- أحد الآتية من الأشكال الأرضية المتكونة نتيجة مرور النهر بمرحلة الشباب:

أ (الشلالات ب) الدلتاوات ج) الخوانق د (السهول الفيضية

٤- الجبال التي تُعد الحد الفاصل بين فرنسا وإسبانيا تُسمى جبال:

أ (البرانس ب) الألب ج) الأنديز د (الهيمالايا

٥- مستوى الأمن الوطني الذي يرتبط بإيجاد علاقات مع دول الجوار هو:

أ (الإقليمي ب) الدولي ج) الداخلي د (السياسي

٦- نسبة البحيرات العظمى بين الولايات المتحدة وكندا من طول الحدود الشمالية من الولايات المتحدة

الأمريكية والحدود الجنوبية لكندا تساوي:

أ (٣٢%) ب) ٤٠%) ج) ٥٥%) د (٦٤%)



المبحث: الجغرافيا الفرع: الأدبي

أ) اختر رمز البديل الصحيح من البدائل المعطاة لكل فقرة مما يأتي:

١- درجة تجمد الماء وفقاً لنظام الحرارة الفهرنهايتي، تساوي:

٢٢٠ ★ ٣٢ ★ ٤٠ ★ ٣٦ ★

٢- ترتفع درجة الحرارة خلال النهار لتصل إلى أقصى درجة عند الساعة:

١٠ ★ صباحاً ١١ ★ صباحاً ١٢ ★ ظهراً ٣ ★ ظهراً

٣- يبلغ الضغط الجوي عند مستوى سطح البحر بوحدة المليبار:

١٠١٠ ★ مليبار ١٠١٣ ★ مليبار ١٠١٤ ★ مليبار ١٠١٨ ★ مليبار

ب) لدرجة الحرارة أهمية بالغة في المناخ،
وضح ذلك.



المبحث: الجغرافيا / ف١ الفروع: الأدبي

أ) أذكر أجهزة قياس الضغط الجوي.

ب) كون تعميماً يوضح العلاقة بين الضغط الجوي

والارتفاع عن مستوى سطح البحر.

ج) عرف: منطقة الرهو (الركود).

د) علل: ينخفض الضغط الجوي في المناطق الاستوائية.



المبحث: الجغرافيا الفرع: الأدبي

اختر رمز البديل الصحيح لكل مما يأتي:

١- يبلغ الفاصل الرأسي على خرائط ذات مقياس (١ : ٢٥٠٠٠٠):

أ (١٠ م ب (٢٠ م ج (١٥ م د (٣٠ م

٢- من الأشكال الناتجة عن حركة صدعية باطنية:

أ (بحيرة تانا ب (الجبال الأندونيسية

ج (البحر الميت د (قمة إيفرست

٣- يزداد حجم الماء عندما يتجمد بنسبة:

أ (٧% ب (١٣% ج (١١% د (٩%