

# Teacher Fida Jasser

(10 علامات)

السؤال الأول:

أ.حول عملية الجمع متكرر الى ضرب:

$$3+3+3+3+3 =$$

$$2+2 =$$

$$5+5+5+5+5+5+5+5=$$

$$4+4+4 =$$

$$1+1+1+1+1+1+1=$$

ب.حول عملية الضرب الى جمع متكرر:

$$3 \times 5 =$$

$$4 \times 6 =$$

$$5 \times 1 =$$

$$4 \times 3 =$$

$$2 \times 2 =$$





(6 علامات)

السؤال الثاني:

أ.أكتب جملة الضرب المناسبة:



.....




.....

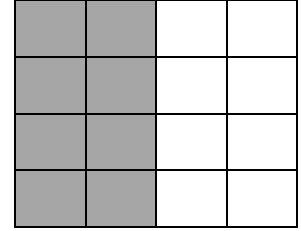
# Teacher Fida Jasser

ب. أكتب جملة الضرب المناسبة لكل شبكة:

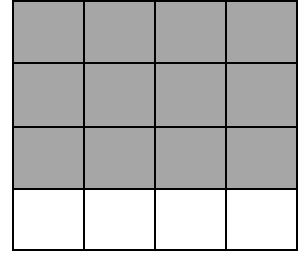
.....



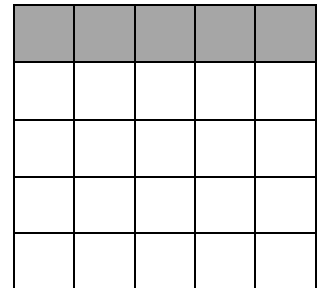
.....



.....



.....



( علامتان )

السؤال الثالث:

أ. للسيارة 4 عجلات ، كم عجل لسيارتين؟

.....

ب. رتبت نورة حبات التفاح في 5 مجموعات وضعت في كل مجموعة 2 حبة ،  
كم المجموع الكلي لعدد حبات التفاح التي رتبته نورة؟

.....

# Teacher Fida Jasser

(4علامات)

السؤال الثالث:

ضع دائرة حول الإجابة الصحيحة:

1. العددين الذين ناتج ضربهما 12 هما:

$2 \times 6$

$2 \times 5$

$2 \times 4$

2. ناتج ضرب العددين  $3 \times 5$  هو :

$18$

$12$

$15$

3. جملة الضرب المناسبة لعملية الجمع المتكرر  $4+4+4+4+4$  هي:

$5 \times 4$

$4 \times 4$

$4 \times 2$

4. جملة الجمع المتكرر المناسبة لجملة الضرب  $(3 \times 2)$  هي:

$3+3$

$2+2+2$

$2 \times 2 \times 2$

(3علامات)

السؤال الرابع:

جد ناتج ما يلي:

$4 \times 3 =$

$4 \times 5 =$

$2 \times 2 =$

$5 \times 2 =$

$9 \times 2 =$

$5 \times 5 =$

انتهت الأسئلة

مع تمنياتي بالنجاح ♥♥