



مديرية التربية والتعليم / لواء الجامعة
مدرسة : علي رضا الركابي الاساسية
المبحث : الرياضيات

الموافق : الاحد 2025/4/13م
زمن الاختبار : حصة صفية
العلامة الكلية : (20)

اسم الطالب: للعام 1446هـ/2025م
اختبار الشهر الثاني للفصل الدراسي الثاني
الصف: الخامس شعبة (.....)

السؤال الاول : اكتب المقدار الجبري في كل مما يأتي , ثم اوجد قيمته اذا كان $5 = a$

(8 علامات) $24 = x, 9 = y,$

1- ناتج جمع 48 مع x

2- 16 مطروح من y

3- ناتج قسمة x على 6

4- 5 أمثال a

السؤال الثاني : حل المعادلات التالية (4 علامات)

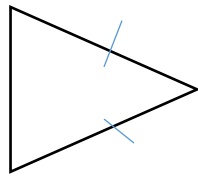
1- $Y + 4 = 15$

2- $x - 8 = 18$

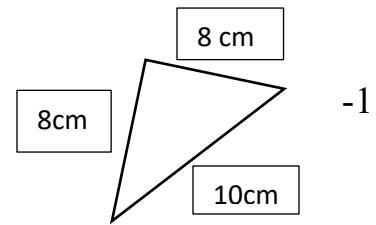
3- $X \div 9 = 8$

4- $4 \times a = 36$

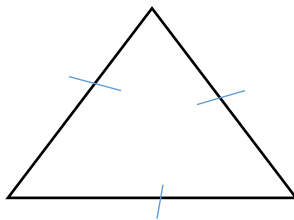
السؤال الثالث : اصنف كل من المثلثات الآتية حسب أطوال أضلاعه وابرر اجابتي (8 علامات)



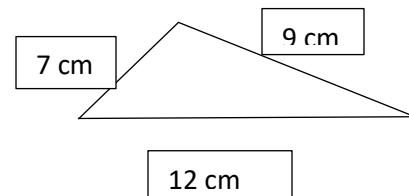
-2



-1



-4



-3

☞ انتهت الأسئلة مع أطيب الأمنيات لكم بالنجاح ☜

معلم المبحث : محمد هريس