

دوسية التربية الاجتماعية والوطنية

اسم الطالب:

.....
الصف الثالث الأساسي

إعداد المعلمة: فداء جاسر

الوحدة الأولى

جلالة الملك طلال
بن عبدالله

جلالة الملك
الحسين بن طلال
الملك الباني

نعمل من أجل
وطني

الدرس الأول: جلالة الملك طلال بن عبدالله



الملك طلال بن عبدالله بن الحسين

ثاني ملوك المملكة الأردنية الهاشمية تولى الحكم بعد استشهاد والده الملك عبدالله وتزوج من الملكة زين الشرف وكانت فترة حكمه قصيرة دامت عامين اثنين فقط وذلك بسبب حالته الصحية وقرر مجلس الامة انهاء ولايته والمناداة بابنه الأكبر الأمير الحسين ملكاً دستورياً للبلاد.

إنجازات جلالة الملك طلال

1. وضع دستور جديد للبلاد.
2. وجعل التعليم إلزامياً مجانياً.

الدستور

هو وثيقة الأساسية التي تحدد نظام الحكم في الدولة، والقوانين التي تبين حقوق وواجبات المواطنين لتسهيل إدارة شؤون البلاد.

أبناء الملك طلال

1. الملك الحسين
2. الأمير محمد
3. الأمير حسن
4. الأميرة بسمة

الدرس الثاني: جلالة الملك الحسين بن طلال (الملك الباني)



جلالة الملك الحسين بن طلال هو الملك الباني للأردن، ولد الحسين بن طلال في عمان بتاريخ 14 تشرين الثاني عام 1935 وهو ثالث ملوك المملكة الأردنية الهاشمية، والأبن الأكبر للملك طلال تولى الحكم وهو بعمر 18 سنة

أبنائه هم:



الأمير علي



الأمير فيصل



الملك عبدالله الثاني



الأمير هاشم⁴



الأمير حمزة
إعداد المعلمة : فداء جاسر

إنجازات الملك الحسين بن طلال:



من منجزات الحضارية في عهد الملك الحسين بن طلال:

1. بناء السدود
2. انتشار المدارس والجامعات
3. بناء الملاعب والمدن الرياضية
4. بناء المستشفيات والمراكز الصحية

توفي جلالة الملك الحسين بن طلال في
السابع من شهر شباط لعام 1999

الدرس الثالث: نعمل من أجل وطني

المشاركة هي مشاركة الفرد في المناسبات والاعياد ومشاركة والآخرين في احزانهم وتقديم المواساة لهم ومشاركتهم في بناء وطنه ومجتمعه.



أسئلة الوحدة:

املاً الفراغ فيما يلي:

الدستور هو:

.....
ولد الحسين بن طلال في بتاريخ.....
تولى جلالة الملك طلال بن عبدالله الحكم في
أنهى مجلس الأمة مدة ولاية الملك طلال بسبب
توفي الملك الحسين في
وضع دستور جديد للبلاد من انجازات
لقب الملك الباني أطلق على
من منجزات الملك الحسين بن طلال
أبناء الملك الحسين بن طلال / /
..... /

صّل بخط بين الجملة وكلمة أوافق أم لا أوافق:

أوافق

لا أوافق

شارك محمود أصدقاءه في قطع أغصان الأشجار
شاركتُ مع زملائي في تنظيف ساحة المدرسة
طلب إلي صديقي أن نكتب على جدار المدرسة
شاركت والدتي في إعداد طعام العشاء

الوحدة الثانية



الدرس الأول: وطني الأردن

خارطة الوطن العربي



يمتد الوطن العربي في قارتي
آسيا وأفريقيا ويقع وطننا
الأردن في قارة آسيا في شبه
الجزيرة العربية.

حدد مكان وطننا الأردن على الخريطة

يُعد موقع وطني الأردن مميزًا لأنه يربط قارتي
آسيا وأفريقيا ويؤدي دورًا حضاريًا وتاريخيًا
كطريق للقوافل التجارية وطرق المواصلات.



من الخارطة أعلاه أجب عما يلي:

سَمِّ الدول التي تَحُدُّ وطني الأردن من:

- الشمال..... الجنوب..... الشرق..... الغرب.....
- اسم المنفذ المائي الوحيد للأردن.....
- اسم البحر الذي يقع عليه.....

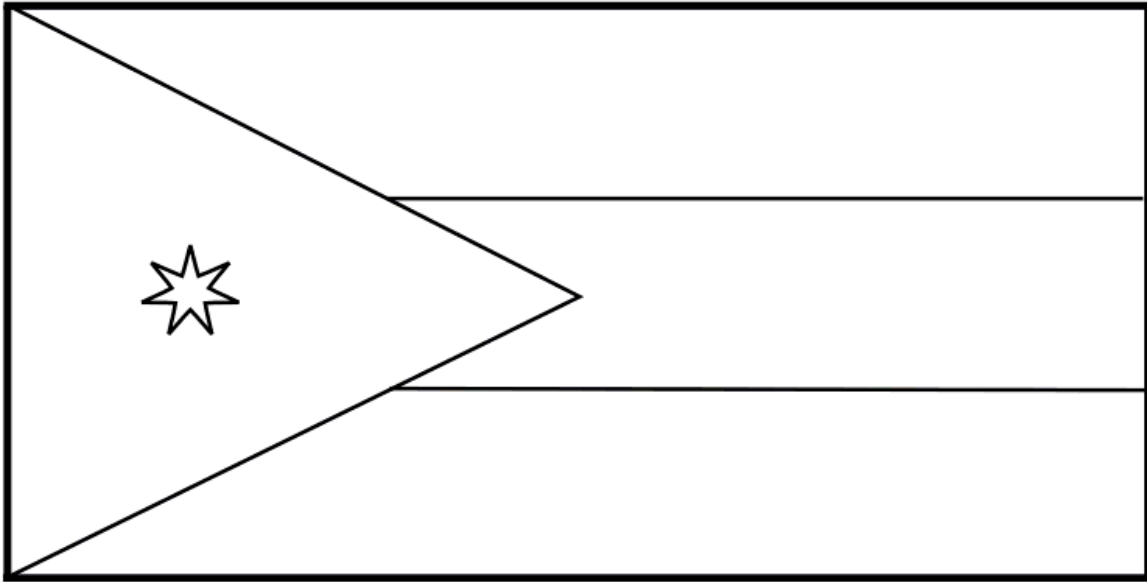
سُمي وطني بالمملكة الأردنية الهاشمية:

المملكة: لأن نظام الحكم فيها ملكي.

الأردنية: بسبب وجود نهر الأردن.

الهاشمية: لأن الملك من بني هاشم

لَوْن علم الوطن



الدرس الثاني: التقسيمات الإدارية



تتكون المملكة الأردنية الهاشمية من 12 محافظة تتوزع في ربوع وطني من الشمال إلى الجنوب مقسمة إلى ثلاثة أقاليم كما يلي:

1. محافظات إقليم الشمال: إربد - جرش - عجلون - المفرق
2. محافظات إقليم الوسط: عمان (العاصمة) - البلقاء - الزرقاء - مأدبا
3. محافظات إقليم الجنوب: الكرك - الطفيلة - معان - العقبة

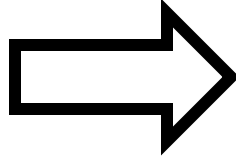

الدرس الثالث: عمان عاصمة وطني

عمان: عاصمة المملكة الأردنية الهاشمية، وهي مقر جلالة الملك، وفيها المباني والوزارات المهمة.

من أهم المعالم المعاصرة لمدينة عمان الحديثة:



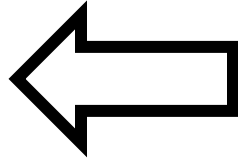
قصر رغدان العامر



جسر عبدون



وزارة الصحة



عمّان: سكنها العمونيون واتخذوها عاصمة لهم وعُرفت باسم ربّة عمّون (أي دار الملك) ثم سيطر عليها اليونانيون وأطلقوا عليها اسم (فيلادلفيا).

تضم عمان عددًا من المواقع الأثرية أهمها:



جبل القلعة:

ويقع بالقرب من جبل
الحسين



المدرج الروماني

ويقع خلف الساحة
الهاشمية



متحف الآثار الأردني

يقع على قمة جبل
القلعة

الدرس الرابع: معالم أثرية وسياحية في وطني

يتميّز الأردن بتاريخه الغنيّ بالحضارات المختلفة؛ التي عاشت فيه وتركت وراءها آثارها، وتنتزع هذه الأماكن على جميع محافظات وطني ومن أهمها:

1. قلعة عجلون (قلعة الرّبض)



تقع في محافظة عجلون
بناه القائد المسلم عز الدين أسامة
كان الهدف من بنائها مراقبة
تحركات الصليبيين

2. حمامات ماعين



تقع في محافظة مادبا
تقدم خدمات علاجية للأمراض
الجلدية وأمراض المفاصل

3. مدينة جرش الأثرية



تقع في محافظة جرش
بناها الرومان
من أهم معالمها المدرج ومسرح
أرتمس وشارع الأعمدة

4. البتراء (المدينة الوردية)



تقع في محافظة معان
وهي مدينة منحوتة في الصخر، صخورها وردية اللون
لذلك سميت بالمدينة الوردية
بناها الأنباط
تعتبر من عجائب الدنيا السبع الجديدة

5. وادي رم



تقع في محافظة معان
ويقصده الزوار للتمتع بجمال الطبيعة
الصحراوية
تسلق جباله الشاهقة

6. البحر الميت



أخفض بقعة بالعالم
أشد البحار ملوحة فلا تعيش فيه أي من
الكائنات البحرية لذلك سُمي بالبحر الميت
تستخدم مياهه لعلاج الأمراض الجلدية

7. خليج العقبة



يقع على البحر الأحمر في محافظة العقبة
يسمى ثغر الأردن الباسم
فيه الشعب المرجانية والأسماك الملونة

أسئلة الوحدة:

إملاً الفراغ في ما يلي :

- عاصمة المملكة الأردنية الهاشمية
- من الأسماء التي أُطلقت على عمان و
- بنى قلعة عجلون وسميت أيضاً ب.....
- في أي من المحافظات توجد الأماكن السياحية والأثرية

• سَمِّ المواقع الأثرية الموجودة في عَمَّان

- 1.....
- 2.....
- 3.....

• سَمِّ ثلاثة وزارات موجودة في عمان

- 1.....
- 2.....
- 3.....

• علل ما يلي:

1. بناء قلعة عجلون
2. تسمية البحر الميت بهذا الاسم
3. سميت البتراء بالمدينة الوردية
4. يقصد الزوار حمامات ما عین

● حدد على الخارطة الصماء ما هو مطلوب:



العاصمة عمان باللون الأحمر
البتراء باللون الزهري
البحر الميت باللون الأزرق
حمامات ماعين باللون الأخضر
قلعة عجلون باللون السكني

