

من آداب تلاوة القرآن الكريم



طهارة الجسم ()



طهارة المكان ()



النظر في المرأة ()



طهارة الثياب ()

أي السلوكات التالية تمثل على الشروع عند تلاوة القرآن الكريم



()



()



()

لون الصورة الغلطة على ركن من اركان الاسلام



اشارة () امام العجزة الصحيحة و اشارة () امام العجزة الخاطئة

- 1- () بني الاسلام على خمس
- 2- () الوضوء ركن من اركان الاسلام
- 3- () يستعين المسلم بالله في كل امور
- 4- () الاستعاذة هي قولي (بسم الله الرحمن الرحيم)
- 5- () الشهادتان هي الركن الاول من اركان الاسلام
- 6- () العب أثناء تلاوة القرآن
- 7- () البسطة هي قولي بسم الله الرحمن الرحيم
- 8- () يصوم المسلمون شهر شوال
- 9- () يحج المسلمون الى سوريا
- 10- () الشهادتان (اشهد ان لا اله الا الله و اشهد ان محمدا رسول الله

- 2- كلمة فيها لام
.....نوعها.....
- 3- كلمة آخرها هاء.....
- 4- كلمة فيها حرف مشدد.....
- 5- حرف جر.....

السؤال الثاني : حل الكلمات التالية :
(7 علامات)

شجرة أرنباً

جذع

--	--	--	--

--	--	--	--

--	--	--

ركب المقاطع التالية لتكون كلمات :

.....صس

.....دم

.....صر

.....تد

خا

قا

مدرسة :-..... الامتحان الثاني لمادة التربية الاجتماعية

الاسم:..... للصف

س١-ضع اشارة () امام العبارة الصحيحة واشارة () امام العبارة الخاطئة

- ١- () العائلة تتكون من ام واب وابناء
- ٢- () عمتي هي اخت والدي
- ٣- () لا لعب مع اصدقائي
- ٤- () من الاماكن الموجودة في الحي مركز صحي ومدرسة
- ٥- () لا أؤدي جيراني بصوت المذياع العالي

٦- () رعى

احمد النغايات على

الارض

س٢- اصل بين الكلمة

والصورة المناسبة :



مسجد

ملعب



س٣- لون النجوم بعدد سنوات عمري :

٣- اعالج المرضى وفي اسمي حرف الطاء

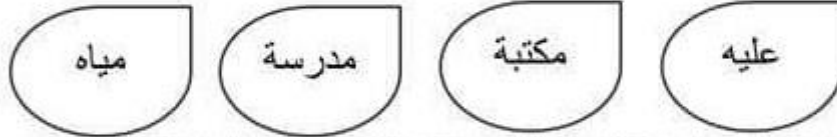
.....

السؤال الخامس: أرسـم الشدة فوق الحرف الذي تحته خط

(٤ علامات)

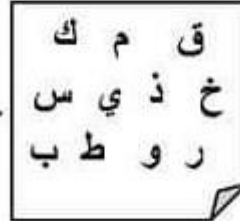
معلم سليم عمي الصف

لون الكلمات التي تنتهي بهاء :



السؤال السادس : كون من الحروف التالية كلمات : (٤ علامات)

.....
.....
.....



*عبر عن الصورة التالية بجملـة :

.....



سعاد ، جرش ، زارت ، مدينة



السؤال الرابع: من أنا؟؟

1- فاكهة لذيذة وفي اسمي حرف الخاء

.....

2- جزء من أجزاء النبات وفي اسمي
حرف القاف

.....

3- أعالج المرضى وفي اسمي حرف
الطاء

.....



1/3



The Ministry of Education

The Education Directorate of _____

Second Exam first Term

English language

Class: 2nd Grade

Name: _____

1- Match please (4 marks)

Mosque



school



Park



House

2- Choose the correct answer :- (2 marks)

1- We go to



on _____

a- Sunday

b- Friday

c- ?

2 I visit my



on _____

a- Sunday

b- Monday

c- Friday



Class: First Grade First Exam
First semester



Match letters(3marks)





السؤال الأول: أقرأ النص التالي ثم أجب عما يليه :

ثعلبٌ جائِعٌ



- 1- ماذا شاهد الثعلب
• استخرج ما يلي :
1- كلمة فيها تنوين
.....نوعه.....

- 2- كلمة فيها لام
.....نوعها.....
3- كلمة آخرها هاء.....
4- كلمة فيها حرف مشدد.....
5- حرف جر.....

السؤال الثاني : حل الكلمات التالية :

(7 علامات)

مدرسة السافعي النموذجية
امتحان الترتيب الإجتماعية / الشهر الثاني

الاسم:

السؤال الأول:

منع إشارة (✓) امام العبارة الصحيحة وإشارة (X) امام العبارة الخاطئة.

- ١- يجب علينا المحافظة على البيت والمدرسة والسارح والحديقة ()
- ٢- تكتب وعد على جدران عزقة المهف ()
- ٣- يرمن خالد النفايات في ساحة المدرسة ()
- ٤- المواطن الصالح يجب وطنه نظيف ()
- ٥- النظافة تعد من الأخلاق التي يبكل بها المسلم ()
- ٦- على الطلبة المحافظة على الإحترام المتبادل والاراد ()
- ٧- يأتي أحد إلى المدرسة متأخراً ()
- ٨- تعاون الطلاب في تنظيف ساحة المدرسة ()
- ٩- الإعتناء بالنظافة يبعد عنا الأمراض ويزيد جمال بلدنا ()
- ١٠- تعاون طلاب المدرسة في تنظيف المسجد ()

3. This is a table

a.




b.



Q4: Count (5 points)



Q5: Listen and color (3 points)



Q6: Write the letters (6 points)

A		C	D			G	H			K
	b			e	f			i	j	

Best Wishes





look and match:- (10 marks)

ز

a chair



a window

a window



a Book
a girl




a Pencil



تم النسخ إلى الحافظة



Write:-(6marks)



d D d D

Blank handwriting lines for practice, consisting of a solid top line, a dashed middle line, and a solid bottom line.

THE END WITH MY BEST WISHES



تم التحميل من موقع الأرائل

السؤال الثالث: رتب الكلمات التالية لتكون جملاً مفيدة:
(٥ علامات)

أصدقاءه ، شادي ، مع ، يلعب

.....

سعاد ، جرش ، زارت ، مدينة

.....



السؤال الرابع: من أنا؟؟

١- فاكهة لذيذة وفي اسمي حرف الخاء

.....

٢- جزء من أجزاء النبات وفي اسمي حرف القاف

.....

٣- أعالج المرضى وفي اسمي حرف الطاء

.....



تم التحميل من موقع الأرائل

السؤال الاول: املا الفراغ بالكلمة المناسبة:

البياسسة / البرد / الخاصة بها / الحيوان / مائية / التربة

1_ البيئة الملائمة تتوفر فيها احتياجات النبات والحيوان....

2_ يعيش الضفدع في الماء و على اليابسة....

3_ لكل بيئة خلقها الله ظروف محددة... فيها.

4_ دودة الارض تحتاج الى التربة..... لتعيش فيها

5_ يغطي جسم الدب فرو ليحميه من البرد.....

6_ النباتات البحرية لا تعيش الا في بيئة مائية.....

السؤال الثاني: اصل بخط بين الحيوان والبيئة الملائمة ليعيش فيها:

المناطق القطبية	الجمال
المياه	الدلفين
الصحراء	الزرافة
العراعي	دودة الارض
التربة	الدب القطبي


السؤال الثالث: اكتب الاحتياجات الاساسية للحيوان :

1_ الماء 2_ هواء 3_ غذاء 4_ مأوى

السؤال الخامس: أرسم الشدة فوق الحرف
الذي تحته خط: (4 علامات)

معلم سلم عمي الصف

لون الكلمات التي تنتهي بهاء:



السؤال السادس: كون من الحروف التالية
كلمات: (4 علامات)

تم التحميل من موقع الأوتل

..... ق م ك
..... خ ذ ي س
..... ر و ط ب



*عبر عن الصورة التالية بجما

سجل دخولك لتحرير الملف وحفظ التغييرات ...

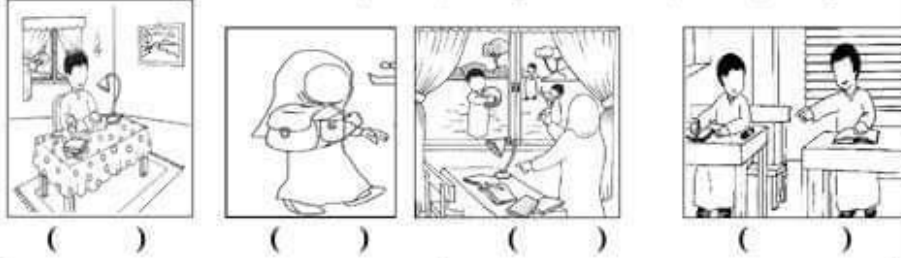
٨- () الإنسان كائن حي ينمو و يتغير

المبدعة: ()
التقويم الثاني (التربية الاجتماعية)
المعلمة: ()

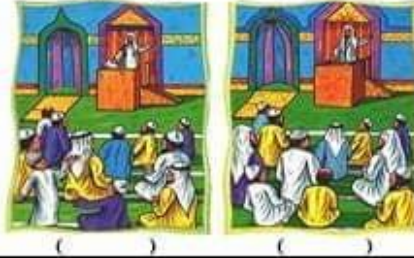
اشارة () امام العبارة الصحيحة و اشارة () امام العبارة الخاطئة

- ١- () المشارب من مرافق المدرسة
- ٢- () يوجد في الحي الذي اعيش فيه مسجد
- ٣- () لا احب ان تأتي امي للمدرسة للسؤال عني
- ٤- () لا يجب ان اعرف و احفظ عنوان بيتي
- ٥- () من المرافق العامة في الحي الحديثة العامة
- ٦- () يوجد في المدرسة مختبر علوم
- ٧- () المركز الصحي ملك لي وحدي
- ٨- () يوجد في المدرسة مركز امن
- ٩- () اجلس في الصف على مقعد و بجواري زميلتي
- ١٠- () لا ارمي الاوراق على الارض في غرفة الصف

اضع اشارة () تحت السلوك الصحيح و اشارة () تحت السلوك الخاطيء في الصف و الدراسة



اضع اشارة () تحت السلوك السليم في التعامل في المساجد



احصر العبارة تعتبر حقيبة مدرسية



اضع اشارة () تحت السلوك السليم في التعامل مع الحدائق العامة



تم التحميل من موقع الازائل

() () () ()
المبدعة: ()
التقويم الثاني (التربية المهنية)
المعلمة: ()



رياضيات الصف الأول فـ 1

ب_ اكتب الأعداد التالية فيما يلي:




89

55

45


• السؤال الثالث:

املا جميع الأعداد الناقصة لكل زهرة:




• السؤال الرابع:

حوظ العشرة التي يقرب اليها العدد 23:

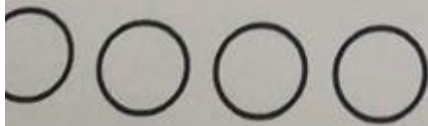


• السؤال الخامس:

أ- اكتب أعداداً فردية:



ب- اكتب أعداداً زوجية:



لمادة الرياضيات

اليوم: الأحد 10/11/2019

اسم الطالب: _____

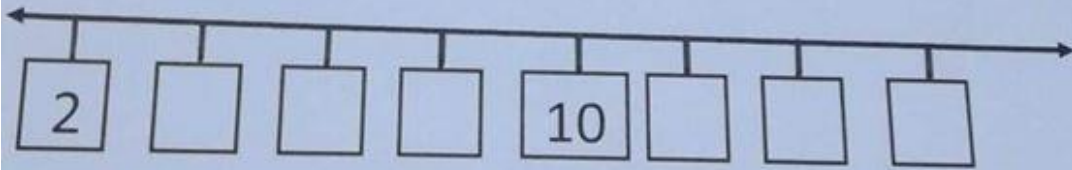
الصف: الأول

السؤال الأول:

أ_ أكمل كتابة الأعداد:

80				84						
	91									

ب_ أكمل كتابة الأعداد على خط الأعداد بالقفز اثنتين:



السؤال الثاني:

أ اكتب الأعداد السابقة فيما يلي:

<input type="text"/>	23
----------------------	----

<input type="text"/>	77
----------------------	----

<input type="text"/>	58
----------------------	----

24
25

مدرسة وروضة أجيال الغد

الصف الأول الأساسي

امتحان الشهر لمادة الرياضيات

الاسم:

الامتحان	اداء	المجموع
24	25	49

(5 علامات)

السؤال الأول: اكتب الأعداد الآتية.

صفر: ~~0~~

ست وستون: ~~66~~

اثنان وثمانون: ~~82~~

ثلاث عشر: ~~13~~

مائة: ~~100~~

(6 علامات)

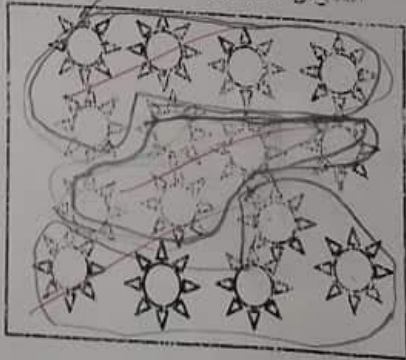
السؤال الثاني: أعد خصمات.

5	10	15	20	25	30	35	40	45	50
---	----	----	----	----	----	----	----	----	----

السؤال الثالث: املأ أعد خصمات وأجود كل مجموعة خمسة (علامتان)

2

توجد 15 خمس



.....صس دم.....
.....صص خا تد قا

اختر الحرف المناسب للكلمات التالية:

ط . خ . ك . ذ

دي... ، مس...تية ، م...ر ، ...رة

رتب الكلمات
جملاً مفيدة التالية لتكون
(5علامات)

أصدقاءه ، شادي ، مع ، يلعب

.....

سعاد ، جرش ، زارت ، مدينة

حوظي صورة الكائن الحي




حوظي صورة الكائن الغير حي



حوظي صورة الكائن الذي لا يتغذى



حوظي الكائن الذي ينمو















حوظي الكائن الذي لا يتكاثر



حوظي الكائن الحي الذي يتكاثر بالبيض



25	Class: 1 st Grade Name:.....	Date: Time:			
Q1: Read and Match (2 points)					
1. What's your name?	A. It's a clock.				
2. What's this?	B. I'm Samira.				
3. How are you?	C. It's white.				
4. What colour is it?	D. I'm very well thank you.				
Q2: Match objects with their names. (6 points)					
1. door	2. Window	3. Chair	4. Pencil	5. Robot	6. Bag
					
Q3: Look and circle (3 points)					
1. This is a book	a. 	b. 			
2. Three birds	a. 	b. 			
3. This is a table	a. 	b. 			




Q4: Count (5 points)

2 / أسماء صديقات وأحواظ كن مجموعة اثنين (علامتان)

توجد 12 نجمة



40 (10 علامات)

السؤال الرابع: اكتب الأعداد من (30-50)

~~30-31~~

~~30-31-32-33-34-35-36~~

~~37-38-39~~

~~40-41-42-43-44-45-46-47-48-49~~

~~50-51-52-53-54-55-56-57-58-59~~



بالتوفيق والنجاح يا أبطال



المعدة.....	تقويم علوم (شهر ثاني)	المعدة :
اشح اشارة) (امام العبرة الصحيحة و اشارة) (امام العبرة الخاطئة		
1-) (النباتات تتكاثر بالبذور		
2-) (النباتات كائنات حية تتغذى و تنمو		
3-) (الانسان و الحيوان و النبات كائنات حية تحتاج الى غذاء		
4-) (الفيل يتكاثر بالبويض		
5-) (الانسان كائن حي ينمو و يكبر		
المعدة.....	تقويم علوم (شهر ثاني)	المعدة :
اشح اشارة) (امام العبرة الصحيحة و اشارة) (امام العبرة الخاطئة		
1-) (النباتات تتكاثر بالبذور		
2-) (النباتات كائنات حية تتغذى و تنمو		
3-) (الانسان و الحيوان و النبات كائنات حية تحتاج الى غذاء		
4-) (الفيل يتكاثر بالبويض		
5-) (الانسان كائن حي ينمو و يكبر		
المعدة.....	تقويم علوم (شهر ثاني)	المعدة :
اشح اشارة) (امام العبرة الصحيحة و اشارة) (امام العبرة الخاطئة		
1-) (النباتات تتكاثر بالبذور		
2-) (النباتات كائنات حية تتغذى و تنمو		
3-) (الانسان و الحيوان و النبات كائنات حية تحتاج الى غذاء		
4-) (الفيل يتكاثر بالبويض		
5-) (الانسان كائن حي ينمو و يكبر		
المعدة.....	تقويم علوم (شهر ثاني)	المعدة :
اشارة) (امام العبرة الصحيحة و اشارة) (امام العبرة الخاطئة		
1-) (النباتات تتكاثر بالبذور		
2-) (النباتات كائنات حية تتغذى و تنمو		
3-) (الانسان و الحيوان و النبات كائنات حية تحتاج الى غذاء		
4-) (الفيل يتكاثر بالبويض		
5-) (الانسان كائن حي ينمو و يكبر		
المعدة.....	تقويم علوم (شهر ثاني)	المعدة :
اشارة) (امام العبرة الصحيحة و اشارة) (امام العبرة الخاطئة		
1-) (النباتات تتكاثر بالبذور		
2-) (النباتات كائنات حية تتغذى و تنمو		
3-) (الانسان و الحيوان و النبات كائنات حية تحتاج الى غذاء		
4-) (الفيل يتكاثر بالبويض		
5-) (الانسان كائن حي ينمو و يكبر		





25

Class: 1st Grade

Date:

Name:

Time: 35 Minutes

Q1: Read and Match (2 points)

- | | |
|-----------------------|-----------------------------|
| 1. What's your name? | A. It's a clock. |
| 2. What's this? | B. I'm Samira. |
| 3. How are you? | C. It's white. |
| 4. What colour is it? | D. I'm very well thank you. |

Q2: Match objects with their names. (6 points)

1. door 2. Window 3. Chair 4. Pencil 5. Robot 6. Bag



Q3: Look and circle (3 points)

1. This is a book

a. b.



2. Three birds
b.

a.



3. This is a table

a.

b.



Q4: Count (5 points)



** بَعْضُ النَّبَاتَاتِ تَمَلِّكُ أَزْهَارًا وَثَمَارًا وَبَعْضُهَا لَا .

** لِلْجُدُورِ وَظَانِفٍ مَتَعَدَّةٍ أَهْمُهَا : 1- تَثْبِيتُ النَّبَاتِ 2 - اِمْتِصَاصُ الْمَاءِ مِنَ التُّرْبَةِ .

** لِلسَّاقِ وَظَانِفٍ مَتَعَدَّةٍ أَهْمُهَا : 1 - حَمْلُ أَجْزَاءِ النَّبَاتِ 2 - نَقْلُ الْمَاءِ إِلَى أَجْزَاءِ النَّبَاتِ .

** هُنَاكَ نَبَاتٌ نَأْكُلُ جَذُورَهُ مِثْلُ : الْجَزْرِ ، الْفُجْلِ ، اللَّفْتِ ، الْبَصْلِ .

وَهُنَاكَ نَبَاتٌ نَأْكُلُ سَاقَهُ مِثْلُ : قَصَبِ السُّكَّرِ .

وَنَبَاتَاتٌ نَأْكُلُ أَوْرَاقَهَا مِثْلُ : الْبَقْدُونِيسِ ، الْمُلْفُوفِ ، الْخَسِّ وَغَيْرِهَا .

وَهُنَاكَ نَبَاتَاتٌ نَأْكُلُ بُدُورَهَا مِثْلُ : الْقَمْحِ ، الْفَاصُولِيَا ، الْفُولِ وَغَيْرِهَا .

** مَلاحِظَةُ مُهِمَّةٌ : إِذَا كَانَتِ الْجُدُورُ مُنْتَفِخَةً يَكُونُ السَّبَبُ هُوَ تَخْزِينُ الْمَاءِ دَاخِلِهَا ، إِذَا كَانَ السَّاقُ مُنْتَفِخًا وَقَاسٍ مِثْلُ سَاقِ الشَّجَرَةِ يَسْمَى جِدْعًا .

السؤال الاول: اقرأ النص التالي ثم اضع اشارة (√) او (X) امام العبارات التالية:

** خلق الله النباتات متنوعة ومختلفة في أشكالها وحجومها وألوانها . لكنها تشابه في احتياجاتها الأساسية وهي: 1-الماء 2_ الضوء 3_ الهواء . لتصنع غذائها بنفسها.
** إذا فقدت إحدى هذه الاحتياجات :فإنها تذبل وتصفّر وتموت .

- 1_ النباتات تختلف في أشكالها وحجومها وألوانها (√) .
- 2_ تحتاج النباتات إلى الهواء والماء فقط. (X)
- 3_ النباتات تصنع غذائها بنفسها. (√)
- 4_ الصخور مليئة بالنباتات المتنوعة لتوفر الماء فيها. (X)

السؤال الثاني: اكتب احتياجات النبات :

1- الماء..... 2_ الضوء..... 3_ الضوء.....

سؤال الثالث: ارسم نبتة حصلت على احتياجاتها من ماء وهواء وضوء

