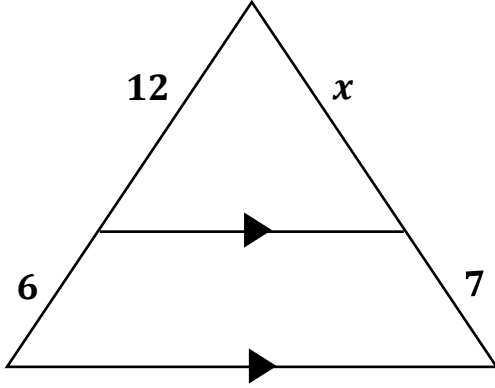


5/ علامات

س1 : معتمداً على الشكل المجاور جد قيمة x .

15/ علامة

س2 : معتمداً على البيانات المثبتة على الشكل جد ما يأتي :

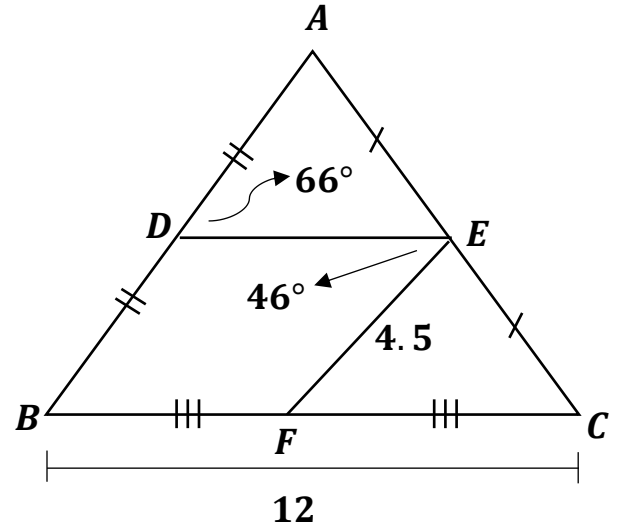
1) $m\angle B$

2) $m\angle EFC$

3) DE

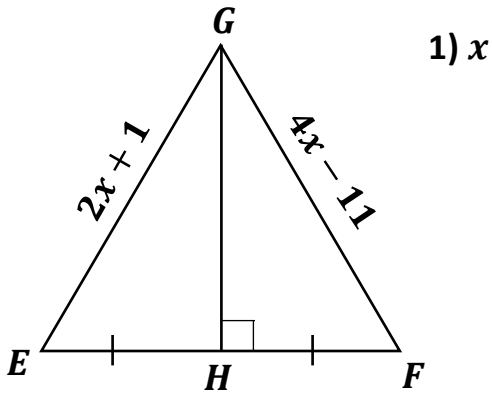
4) AB

5) DB



س3 : معتمداً على الشكل المجاور إذا كانت $GH = 12$ احسب:

8/ علامات

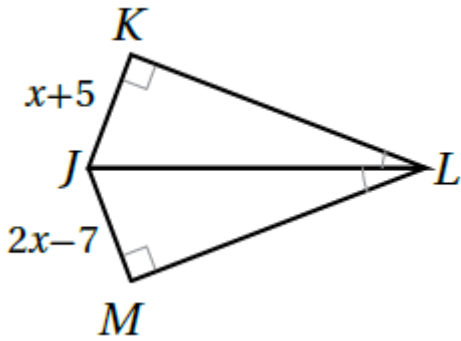


1) x

2) EH

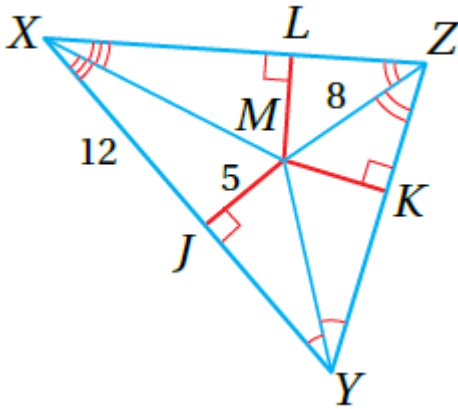
س4 : معتمداً على البيانات المثبتة على الشكل جد JM

4/ علامات



س5 : معتمداً على البيانات المثبتة على الشكل جد KZ

4/ علامات



س6 : إذا علمت أن النقطة Q هي مركز $\triangle LMN$ وكانت $NP = 24$ فجد NQ

4/ علامات

