



مديرية التربية والتعليم للواء الجامعة
مدرسة علي رضا الركابي الأساسية للبنين

التاريخ : ٢٠٢٥ / ١٢ / ١

الوقت : ساعة

العام الدراسي ٢٠٢٥ / ٢٠٢٦

الفصل الدراسي الاول

المادة : المهارات الرقمية الصف : التاسع الشعبة (أ - ب - ج)

الاختبار النهائي

اسم الطالب

ملاحظة : أجب عن جميع الأسئلة التالية، علماً بأن عددها (٤) والإجابة على الورقة نفسها وعدد الصفحات (٢).

السؤال الأول : اكتب مقطع برمجي بلغة سكراتش للجملة الآتية
إذا كانت قيمه فاتورة الكهرباء أكثر من ٤٠ دينار فإني اسدد قيمتها عن طريق الدفع الالكتروني اما اذا كانت قيمتها اقل من ٤٠ دينار او تساوي ٤٠ دينار فإني ادفع من خلال مراكز الدفع

(٦ علامات)

السؤال الثاني : ادرس الشكل المجاور ثم اجب عن الأسئلة الآتية : (٦ علامات)

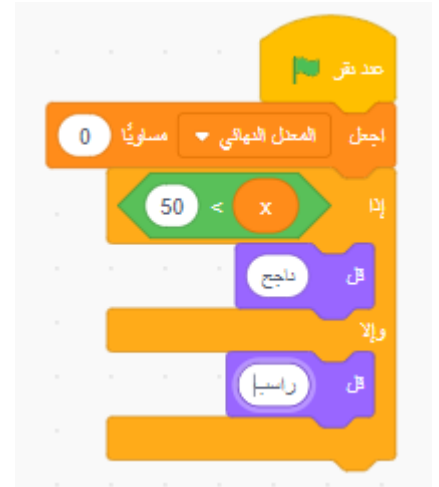
١- ما هي أسماء المتغيرات في الشكل : ١.....٢١.....

٢- ما هو الشرط :

٣- ما ناتج البرنامج اذا كان معدل الطالب ٩٠.....

٤- ما ناتج البرنامج اذا كان معدل الطالب ٤٥.....

٥- ما الخطأ الوارد في هذا البرنامج



(٣ علامات)

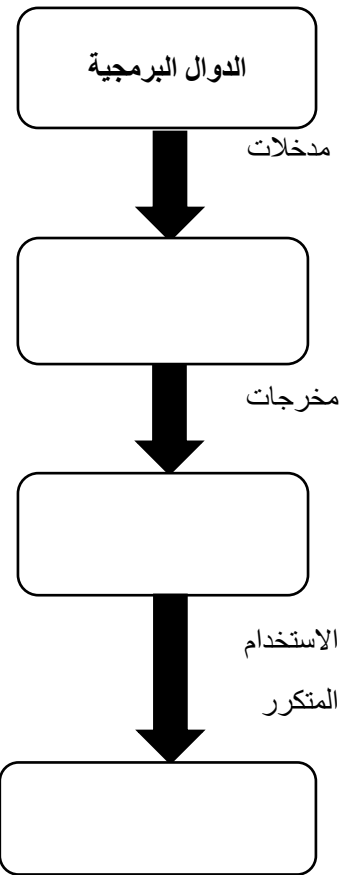
السؤال الثالث : ما هي أنواع لبنات حلقات التكرار الآتية :



١
٢
٣

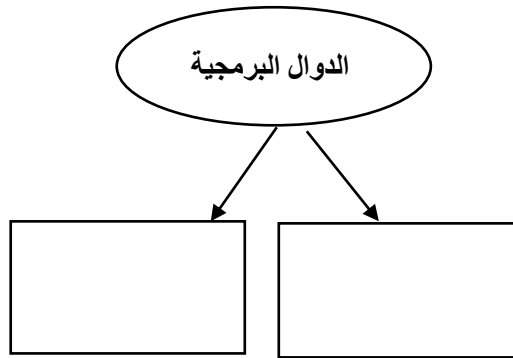
السؤال الرابع: أكمل الأشكال الآتية

عن خصائص الدوال البرمجية:



(٥ علامات)

أنواع الدوال البرمجية



انتهت الاسئلة

تمنيتي للجميع بالتوفيق والنجاح

معلم المناهج: أ. محمدرضا يحيى